

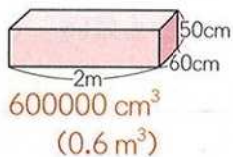
7 次のような図形の体積を求めましょう。

5年「体積」

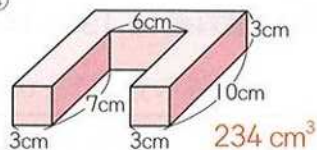
① たて7cm, 横5cm, 高さ3cmの直方体の体積  $105 \text{ cm}^3$

② 1辺8mの立方体の体積  $512 \text{ m}^3$

③

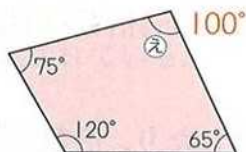
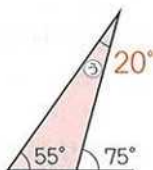
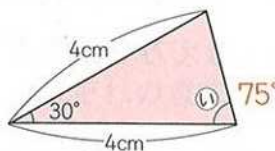
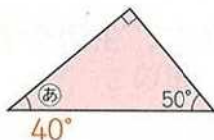


④



8 次のあからえの角の大きさを求めましょう。

5年「合同な図形」



## データの活用

9 次の表は, あおいさんのクラスで一輪車に乗れるかどうかを調べたものです。

4年「調べ方と整理のしかた」

① 表を完成させましょう。

② 男子と女子とでは, どちらのほうが一輪車に乗れる人が多いですか。

女子

一輪車に乗れる人調べ(人)

	乗れる	乗れない	合計
男子	10	6	16
女子	12	4	16
合計	22	10	32